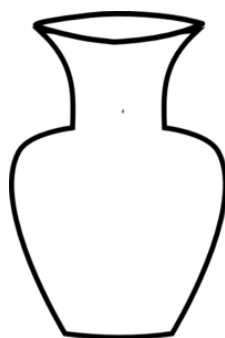
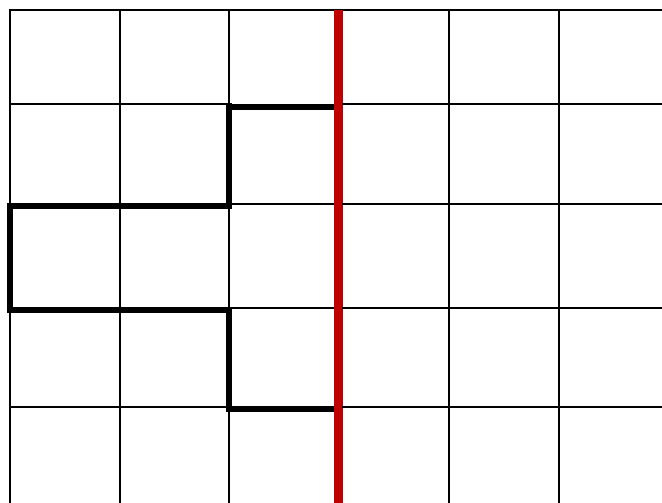
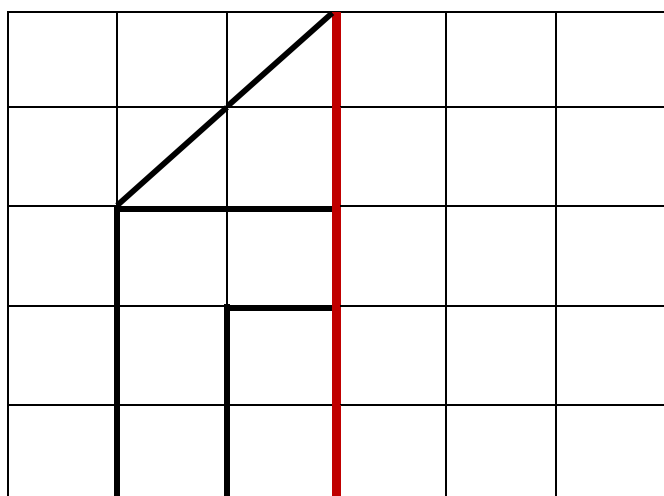


SIMETRIJA – 2. RAZRED



1. ALI SO SLIKE SIMETRIČNE? ČE JE SLIKA SIMETRIČNA NARIŠI ✓, ČE NI SIMETRIČNA NARIŠI ✗.



2. DOPOLNI SLIKO TAKO, DA BO SIMETRIČNA.



3. SIMETRIČNE SLIKE Z RAVNO ČRTO RAZDELI NA DVA ENAKA DELA.



4. POBARVAJ VZOREC TAKO, DA BO SIMETRIČEN.

